

CORRIGÉ

PARTIE 1 – 10 points

1.1. Identifiez le problème posé en cochant la bonne réponse : 0,25 pt

Théo veut poursuivre sa formation professionnelle.

1.2. Repérez les éléments de la situation suivante en complétant le tableau suivant : 6 x 0,25 = 1,5 pt

	Éléments de la situation
Qui ?	Théo, (18 ans).
Quoi ? (Que désire-t-il ?)	Poursuivre ses études.
Où ?	Au lycée professionnel ou Unité de Formation des Apprentis ou Centre de Formation des Apprentis.
Quand ?	Après le CAP.
Comment ? (Quelles sont les possibilités offertes ?)	Mention Complémentaire en LP Brevet Professionnel en alternance (Pour avoir la note complète, il faut donner les deux réponses).
Pourquoi ? (Quels sont les objectifs de sa démarche ?)	Avoir une formation complète/ ouvrir son propre salon de coiffure après quelques années. (Une seule réponse suffit).

1.3. Donnez la signification du sigle CAP. 0,25 pt

Certificat d'Aptitude Professionnel.

1.4. A l'aide du document 1, indiquez le niveau de qualification du CAP en cochant la bonne réponse : 0,5 pt

Niveau V.

1.5.1. A l'aide du document 2, indiquez le type de formation professionnelle correspondant au cas de Théo : 0,5 pt

Formation initiale.

1.5.2 Soulignez, dans le document 2, les buts de la formation professionnelle tout au long de la vie pour un salarié. 0,5 pt (0 s'il y'a d'autres mots soulignés)

Elle vise à permettre à chaque personne, indépendamment de son statut, d'acquérir et d'actualiser des connaissances et des compétences favorisant son évolution professionnelle, ainsi que de progresser d'au moins un niveau de qualification au cours de sa vie professionnelle. Elle constitue un élément déterminant de sécurisation des parcours professionnels et de la promotion des salariés.

1.6. Proposez un moyen de contraception convenant à la situation de Théo et Karine. Justifiez votre réponse. $2 \times 0,25 = 0,5 \text{ pt}$

Le préservatif car il permet d'éviter tout risque de grossesse ou bien d'IST.

1.7. Citez deux exemples d'infections sexuellement transmissibles. $2 \times 0,25 = 0,5 \text{ pt}$

Syphilis, SIDA, herpès génital, blennorragie ou chaude pisse, condylome, hépatite B, ...

1.8.**1.8.1. Relevez, dans le document 3, deux situations nécessitant un dépistage du SIDA. $2 \times 0,25 = 0,5 \text{ pt}$**

En cas d'accident de préservatif pendant l'acte sexuel.

En cas de relation sexuel sans préservatif avec une personne inconnue.

Si vous ne voulez plus utiliser le préservatif car vous voulez avoir une relation stable.

1.8.2. Justifiez l'utilité de ce dépistage. $0,5 \text{ pt}$

Avoir un traitement préventif et bénéficier d'une prise en charge à un stage peu avancé de l'infection.

Ne pas contaminer son partenaire sexuel.

1.8.3. Citez une structure d'accueil, d'aide et de soutien concernant les IST. $0,25 \text{ pt}$

L'une des réponses suivantes :

SIDA Info service,

CIDDIST (Centre d'Information, de Dépistage et de Diagnostic des IST),

AIDES,

CDAG (Consultation de Dépistage Anonyme et Gratuit),

Centre de planification,

CGIDD (Centre Gratuit d'Information de Dépistage et de Diagnostic des IST),

Cabinet médical médecin/infirmière,

Hôpitaux...

1.9. La consommation de substances psychoactives peut entraîner une conduite addictive. Définir le terme souligné. $0,5 \text{ pt}$

Les conduites addictives se définissent comme des conduites à la fois impulsives où l'envie de consommer un produit, de pratiquer une activité, un culte, de fréquenter une personne, un milieu, un endroit particulier, une association, etc. est ressentie comme irrésistible ; l'autre dimension est de nature compulsive, c'est-à-dire que la satisfaction de la consommation dure peu et que progressivement s'installe un besoin impérieux de répétition de l'acte addictif (dépendance). Toute autre réponse cohérente est acceptée.

1.10. Indiquer deux conséquences de la consommation de substances psychoactives :

- sur le travail du salarié : $2 \times 0,25 = 0,5 \text{ pt}$

Qualité de travail médiocre, baisse de rendement, prise de risque inutile, baisse du rendement, perte de vigilance, baisse de la concentration, mauvaises relations avec les autres salariés.

- sur le fonctionnement de l'entreprise : $2 \times 0,25 = 0,5 \text{ pt}$

Baisse de la productivité, retard dans les délais, salir l'image de l'entreprise, mauvaise ambiance, perte d'argent, beaucoup d'absence des employés.

1.11.**1.11.1. Repérez et soulignez, dans le document 4, l'action présentant « le principe de précaution ».** **$0,25 \text{ pt}$**

Ikea suspend la vente de boulettes de viande après des malaises.

Ou

L'enseigne Ikea a suspendu vendredi de la vente des boulettes de viande.

1.11.2. Justifiez l'intérêt de cette action. 0.5 pt

En attendant les résultats du laboratoire, les boulettes de viande ne doivent en aucun être consommées car elles peuvent contenir des toxines dangereuses ou des bactéries.




1.11.3. Relevez, dans le document 4, le nom de l'organisme public chargé de sécurité alimentaire. 0.5 pt

La Direction départementale de protection de la population.

1.12. Attribuez à chaque signe de qualité ci-dessous, deux aliments de la liste suivante :

- Farine,
- Saumon fumé,
- Jambon de Bayonne,
- Poulet,
- Camembert de Normandie,
- Crème dessert.

Chaque aliment n'est présent qu'une seule fois dans le tableau. $6 \times 0,25 = 1,5 \text{ pt}$

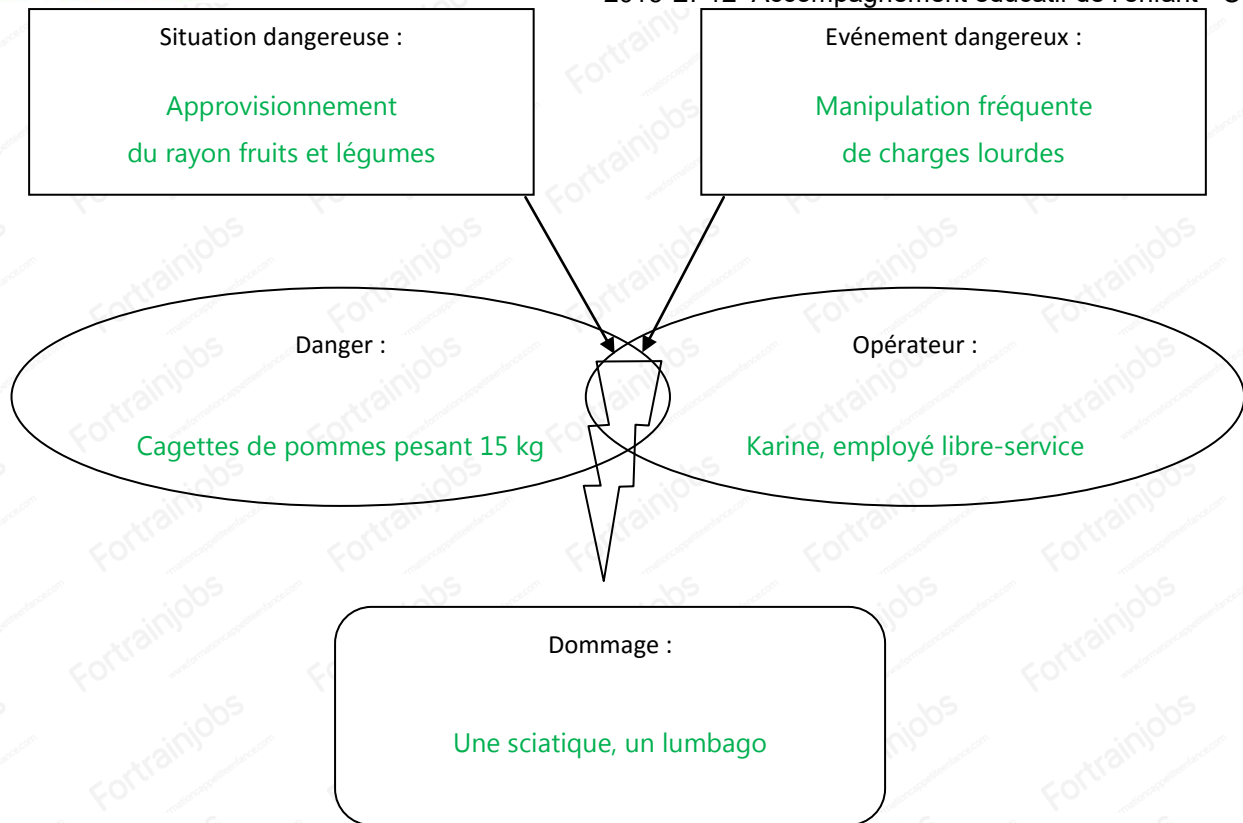
Signes de qualité	Aliments
	<p>Saumon fumé, Poulet (Jambon de Bayonne si ce n'est pas cité dans la dernière ligne du tableau : indication géographique).</p>
	<p>Farine, Poulet, Saumon, Crème dessert (toutes réponses est accepté sauf si elle cité dans une autre case du tableau : label rouge ou indication géographique).</p>
	<p>Camembert de Normandie, Jambon de Bayonne.</p>

Partie 2 – 10 points

Partie 2.1 – 8 points

2.1.1. À l'aide des éléments soulignés et de vos connaissances, complétez le schéma d'apparition du dommage ci-dessous.

$5 \times 0,5 = 2,5 \text{ pt}$



2.1.2. Indiquez la démarche que doit faire l'employée. Précisez le délai à respecter. $2 \times 0,25 = 0,5 \text{ pt}$

Dans un délai de 24 heures, l'employé doit tenir au courant son employeur à propos de l'accident de travail.

2.1.3. Indiquez la démarche que doit faire son employeur. Précisez le délai à respecter. $2 \times 0,25 = 0,5 \text{ pt}$

Dans un délai de 48h, il faut déclarer l'accident de travail à la CPAM.

2.1.4. En vous aidant du document 5, donnez une définition de la manutention manuelle. $0,25 \text{ pt}$

Toute activité qui requiert un effort physique (porter, pousser, tirer, lever, poser ou déposer des charges lourdes)

Toute autre réponse cohérente est acceptée.

2.1.5. Relevez, dans le document 5, les deux secteurs professionnels où les manutentions sont les plus fréquentes.

$2 \times 0,25 = 0,5 \text{ pt}$

L'industrie et le bâtiment.

2.1.6. Proposez, à l'aide du document 5, deux mesures de prévention des risques liés à la charge physique du travail

$2 \times 0,5 = 1 \text{ pt}$

➤ Rendre les charges moins lourdes en les répartissant.

➤ Fournir des aides à la manutention ou agir prioritairement sur les opérations de manutention manuelles qui peuvent être évitées ou qui sont inutiles

Toute autre réponse cohérente est acceptée.

2.1.7. Donnez la signification du CHSCT. 1 pt

Comité d'Hygiène, de Sécurité et des Conditions de Travail.

(Si le candidat donne uniquement 3 mots corrects, il aura 0,5 pt, sinon c'est 0).

2.1.8. A partir de la situation de la situation de Karine, indiquez si le CHSCT est obligatoire dans son entreprise, justifiez votre réponse. $2 \times 0,25 = 0,5 \text{ pt}$

L'entreprise comprend un nombre d'employés supérieur à 50. En conséquence, le CHSCT est obligatoire.

2.1.9. Indiquez un autre type de visite médicale obligatoire $0,25 \text{ pt}$

La visite périodique qui a lieu tous les 2 ans.

La visite après l'embauche.

(Une réponse au choix).

2.1.10. Cochez les situations relevant des missions du médecin du travail. $4 \times 0,25 = 1 \text{ pt}$ ($-0,25 \text{ pt}$ par erreur)

Il assiste à une réunion du CHSCT dans une entreprise.

Il propose des mesures de prévention contre le bruit.

Il reçoit, au cours d'une visite de reprise, une salariée après un congé de maternité.

Il propose un aménagement du poste de travail d'un salarié handicapé.

Partie 2.2 – 2 points

2.2.1. Nommez, à l'aide de quatre verbes à l'infinitif, les actions menées par le collègue de Patrick (Respectez l'ordre chronologique). $4 \times 0,25 = 1 \text{ pt}$

- 1 Protéger
- 2 Examiner
- 3 Alerter ou faire alerter
- 4 Secourir

2.2.2. Indiquez le geste de secours qui doit être pratiqué dans une situation d'accident. 1 pt

Mettre l'individu accidenté sur le côté ou en position latérale de sécurité (PLS).

2.2.3. Proposez une solution de prévention pour que ce type d'accident ne se reproduise pas. $0,5 \text{ pt}$

- Apprendre le personnel à charger et à manier le transpalette.
- Éclairer la réserve.
- Sensibiliser les salariés aux précautions à prendre en cas de produits répandus sur le sol.
- Mettre des chaussures qui évitent le dérapage.
- Fournir du matériel de balisage de la zone dangereuse.
- Affichage
- Ou toute autre réponse cohérente.