

**Coefficient : 1****Durée : 45 minutes****Consignes :**

Seules les encres de couleur bleue et noire sont autorisées (*l'usage du crayon n'est pas autorisé*).







Répondez sur le questionnaire :

→ Aucun choix inscrit sur la copie ne sera accepté

→ Cochez les cases correspondant à votre choix.

**IMPORTANT :**

-  Il y a plusieurs bonnes réponses par question.
-  Certaines réponses sont pénalisantes (*– 2 points*).
-  Aucun nom ou signe distinctif ne doit figurer sur le QCM.
-  Voici le barème de notation pour chaque question :

Le candidat coche l'ensemble des réponses exactes	+ 1
Le candidat coche une partie des réponses exactes et aucune réponse incorrecte	+ 0,5
Le candidat coche une partie des réponses exactes et une ou des réponses incorrectes	– 1
Le candidat coche uniquement des réponses incorrectes	– 1
Le candidat coche une réponse pénalisante	– 2
Pas de réponses proposées	– 1

**1) Que signifie ce pictogramme ?**

- A. produit chimique corrosif
- B. produit chimique mutagène
- C. produit chimique irritant
- D. produit chimique cancérigène

**2) Vous devez vous occuper de la commande de produit d'entretien pour le lavage du sol de votre classe et de la salle de motricité. Il est précisé qu'il faut 25 ml pour 20 m<sup>2</sup>. Votre classe a une surface de 60 m<sup>2</sup> et la salle de motricité 105 m<sup>2</sup>. Vous faites ce nettoyage 3 fois par semaine. Indiquez votre consommation hebdomadaire de ce produit :**

- A. 618,75 mL
- B. 6, 1875 L
- C. 62,950 cL
- D. 5,967 L
- E. 596,70 mL

**3) Un enfant s'est blessé pendant la récréation, quels gestes n'avez- vous pas le droit de faire ?**

- A. effectuer quelques gestes basiques comme soigner une écorchure
- B. effectuer les gestes de premiers secours si vous êtes titulaire du PSC1
- C. donner un antidouleur
- D. appeler le médecin de famille de l'enfant

**4) Lors du passage aux toilettes, en tête-à-tête avec un enfant, vous constatez qu'il présente des hématomes sur le bas du dos et le ventre. Que ne devez-vous pas faire ?**

- A. en parler à vos collègues ATSEM
- B. écouter l'enfant
- C. en parler à l'enseignant
- D. appeler le 119 dès que possible sans en parler à quiconque auparavant
- E. en parler à l'assistante maternelle qui vient chercher l'enfant

**5) Quelles précautions devez-vous prendre pour éviter une épidémie de gastro-entérite ?**

- A. donner préventivement des anti diarrhéiques à tous les enfants
- B. renforcer la fréquence de lavage de vos mains
- C. nettoyer plus fréquemment les toilettes
- D. veiller au lavage des mains des enfants après chaque passage aux toilettes

**6) Dans la classe de petite section, l'enseignante vous demande de surveiller l'atelier peinture, après avoir donné la consigne :**

- A. vous laissez les enfants libres de ne pas suivre la consigne, ils sont petits après tout
- B. vous veillez à l'application de la consigne
- C. vous rappelez la consigne de temps en temps
- D. vous leur tenez la main pour que le travail soit bien réalisé
- E. vous changez les pinceaux ou le support prévu par l'enseignante pour obtenir un meilleur résultat
- F. vous signalez à l'enseignante quand le travail est terminé

**7) Un enfant de grande section a accidentellement uriné dans son pantalon. Que ne devez-vous pas faire ?**

- A. le laisser attendre que vous soyez prête à le changer
- B. l'emmener discrètement aux toilettes pour le laver et le changer
- C. lui faire remarquer sèchement qu'à son âge on se retient
- D. le rassurer en lui expliquant que ce n'est pas grave

**8) Un parent d'élève vous interroge sur la journée de son enfant à l'école, quelle(s) conduite(s) adoptez-vous ?**

- A. vous ne pouvez pas répondre sur les apprentissages scolaires
- B. vous faites partie de l'équipe éducative et à ce titre vous expliquez aux parents ce que l'enfant réussit ou non
- C. vous informez les parents si l'enfant se conduit mal en classe
- D. vous dirigez le ou les parent(s) vers l'enseignante
- E. vous pouvez parler aux parents du comportement de leur enfant au restaurant scolaire

**9) Que signifie ce pictogramme ?**

- A. produit chimique corrosif
- B. produit chimique mutagène
- C. produit chimique irritant
- D. produit chimique cancérigène

**10) Un exercice de sécurité est organisé pendant le temps scolaire.**

**Indiquez les informations exactes dans la liste ci-dessous :**

- A. L'ATSEM doit être titulaire du PSC1 pour participer à l'exercice.
- B. L'ATSEM doit vérifier qu'aucun des enfants de l'école n'a été oublié.
- C. L'exercice de sécurité doit avoir lieu au moins 3 fois par an. Chacun applique les consignes rédigées par le directeur.
- D. Dès que l'alarme se déclenche, chacun se rend au plus vite au point de ralliement en appliquant les consignes établies.
- E. L'ATSEM veille à habiller tous les enfants de sa classe avant de les amener au point de ralliement.
- F. Si l'exercice a lieu pendant la sieste des petits, il faut éviter de réveiller les enfants qui dorment, il ne s'agit que d'une simulation.

**11) Sur le temps scolaire, l'ATSEM peut :**

- A. surveiller seul la récréation
- B. surveiller la sieste sous la responsabilité de l'enseignant
- C. prendre la classe en charge en cas d'absence de l'enseignant
- D. assurer la propreté et l'hygiène des locaux C E. gérer seul un atelier de motricité

**12) Un enfant s'est fait gronder par son enseignant, il n'a pas respecté la consigne de travail et est dissipé. Il vient vous voir pour être consolé, que faut-il ne pas faire ?**

- A. le consoler et lui proposer de rester avec vous un petit moment
- B. le gronder et lui dire d'arrêter ses caprices
- C. l'aider à faire son travail
- D. lui expliquer qu'il doit écouter l'enseignant
- E. lui dire de retourner travailler

**13) Quelle est la quantité de produit à mettre dans un seau de 10 litres d'eau si le dosage prévu est de 2,5 % par litre ?**

- A. 2,5 cl
- B. 25 cl
- C. 250 cl
- D. 250 ml
- E. 25 dl

**14) Parmi les aliments suivants, lesquels contiennent le plus de fibres ?**

- A. le pain complet
- B. les œufs
- C. la volaille
- D. les lentilles
- E. les petits pois
- F. les groseilles

**15) Que permet le PAI (projet d'accueil individualisé) ?**

- A. d'accueillir des enfants relevant du handicap
- B. d'accueillir des enfants asthmatiques
- C. d'accueillir des enfants souffrant d'allergies
- D. d'accueillir des enfants souffrant d'intolérance alimentaire

**16) Dans le cadre du devoir de réserve, vous ne devez pas :**

- A. parler de ce qui se passe en classe, en dehors de la classe
- B. parler aux parents du comportement de leur enfant au restaurant scolaire
- C. signer une pétition proposée par les parents et critiquant le manque de moyens mis à la disposition de l'école par la municipalité
- D. divulguer la maladie d'un enfant de la classe à des parents qui vous interrogent sur son comportement

**17) Dans les affirmations suivantes laquelle ou lesquelles est ou sont exactes ?**

- A. vous êtes responsable des enfants pendant la sieste
- B. vous assurez seul l'endormissement des petits
- C. il est souhaitable que les enfants se réveillent à leur rythme
- D. l'enfant qui a un doudou peut le garder pendant la sieste

**18) Quels sont les produits d'usage courant dans la pharmacie de l'école ?**

- A. flacon de savon de Marseille
- B. compresses stériles
- C. un médicament antidouleur
- D. de l'alcool à 90° modifié
- E. sparadrap
- F. filets à pansement
- G. gants jetables

**19) Dans quelles circonstances doit-on se laver les mains ?**

- A. avant de manger
- B. après manger
- C. après être passé aux toilettes
- D. après avoir touché un animal
- E. après avoir effectué un soin

**20) Dans une école pour le dépoussiérage du matériel, vous ne devez pas utiliser :**

- A. une lavette humidifiée
- B. un plumeau
- C. un chiffon à poussière
- D. une balayette

**CORRIGÉ :**

<b>1</b>	<b>2</b>	<b>3</b>	<b>4</b>	<b>5</b>	<b>6</b>	<b>7</b>	<b>8</b>	<b>9</b>	<b>10</b>
C	A	C, D	D, E	B, C, D	B, C, F	A, C	A, D, E	B, D	B, D
<b>11</b>	<b>12</b>	<b>13</b>	<b>14</b>	<b>15</b>	<b>16</b>	<b>17</b>	<b>18</b>	<b>19</b>	<b>20</b>
B, D	A, B, C	B, D	A, D, E, F	A, B, C, D	A, C, D	C, D	A, D, E, F, G	A, B, C, D, E	B, D